



EMEB “JORNALISTA GRANDUQUE JOSÉ
PROVÃO - 1º BIMESTRE – 2021
Período de Estudo em Casa - Distanciamento Social – Covid-19
11ª SEMANA – DE 19 A 23 DE ABRIL DE 2021.

7º ANO

Nome: _____ Nº: _____ 7º _____

1ª PARTE: LÍNGUA PORTUGUESA

PROFESSORA: ISABEL FIGUEIREDO DELGADO

Ibama tem nova regra de transporte de animais silvestres de estimação

O transporte de animais deve ser feito mediante autorização de transporte e pagamento de boleto

O Ibama (Instituto Brasileiro do Meio Ambiente e Recursos Renováveis) divulgou nova regra para o transporte de animais silvestres entre estados no Brasil.

Agora, o transporte de animais deve ser feito mediante autorização de transporte e pagamento de boleto ao Ibama.

A coordenadora de Monitoramento do Uso da Fauna e Recursos Pesqueiros, Maria Isabel Soares, destaca que o Ibama considera animais silvestres de estimação aqueles comprados de criadores legalizados ou cedidos com autorização do Ibama.

Os mais comuns a serem criados são papagaios, araras, jabutis. Maria Isabel alerta que antes de ter um animal silvestre em sua tutoria, é preciso conhecer as necessidades deles que são diferentes de cães e gatos, inclusive custos. Maria Isabel ainda destaca que o aumento da fraude e do tráfico foi o que motivou essa mudança na regularização.

A punição será prisão de seis meses a 1 ano e multa de 500 a 5 mil reais.

Disponível em: <<http://radios.ebc.com.br>>.

As questões 1 a 4 são referentes ao texto.

1 – Qual é a finalidade do texto acima?

- a) caracterizar os animais silvestres e destacar as suas necessidades.
- b) divulgar um trabalho desenvolvido pelo IBAMA.
- c) expor uma opinião sobre o tráfico de animais silvestres no Brasil.
- d) informar sobre a nova regra para o transporte de animais silvestres no Brasil.

2 – No segmento “Agora, o transporte de animais deve ser feito mediante autorização [...]”, o termo sublinhado indica:

- a) uma mudança na regra sobre o transporte de animais silvestres.
- b) uma crítica sobre a nova regra para o transporte de animais silvestres.
- c) uma comparação entre a lei anterior e a atual sobre o transporte de animais silvestres.
- d) uma conclusão a que se chegou sobre a nova regra divulgada pelo IBAMA.

3 – “[...] é preciso conhecer as necessidades deles [...]”. Segundo a coordenadora de Monitoramento do Uso da Fauna e Recursos Pesqueiros, é preciso conhecer as necessidades:

- a) dos papagaios.
- b) das araras e dos jabutis.
- c) dos animais silvestres.
- d) dos cães e gatos.

4 – No segmento “O Ibama (**Instituto Brasileiro do Meio Ambiente e Recursos Renováveis**)...”, a informação entre parênteses:

- a) comenta a sigla Ibama.
- b) explica a sigla Ibama.
- c) caracteriza a sigla Ibama.
- d) complementa a sigla Ibama.

5 – Diante disso, essa nova regra sobre o transporte de animais silvestres deve ser **repassada** aos fiscais a fim de assegurar que ela será cumprida. A forma nominal destacada refere-se ao:

- a) Infinitivo
- b) Gerúndio
- c) Particípio
- d) N.D.A. (nenhuma dessas alternativas).

6 – Sendo assim, é papel de todos os cidadãos que possuem animais silvestres de estimação **pagar** por seu transporte. A forma nominal destacada refere-se ao:

- a) Infinitivo
- b) Gerúndio
- c) Particípio
- d) N.D.A. (nenhuma dessas alternativas).

Observe o texto abaixo para responder a questão 7.

Todo brasileiro tem direito a um e-mail grátis.

Para: Príncipe Charles
De: luis@bol.com.br

Prezado Príncipe Charles:
Você não me conhece, meu nome é Luís.

Sabe o que é, eu estou indo pra Inglaterra amanhã. É uma excursão, vou conhecer esses castelos aí...

Só que eu preciso fazer as malas e não sei se em Londres tá fazendo frio ou calor. Aí eu pensei: por que eu não escrevo um e-mail e pergunto?

Por isso, seu Príncipe, será que o senhor poderia dar uma olhadinha pela janela e me dizer como é que tá o tempo?

Atenciosamente,
Luís

Você vai conseguir falar com gente que você nunca falou antes. Chegou Brasil Online.
E-mail grátis. www.bol.com.br

Inscrição rápida: basta escolher um nome e uma senha • Acesso de qualquer computador, de qualquer provedor • Tudo grátis

BOL
BRASIL ONLINE

Revista da Folha, 13 fev. 2000. In : KOCH, Ingedore Villaça e ELIAS, Vanda Maria. *Ler e Compreender os sentidos do texto*. São Paulo: Contexto, 2006.

7 – O trecho que exemplifica o uso da linguagem informal na propaganda é:

- (A) “Prezado Príncipe Charles:”
- (B) “[...] por que eu não escrevo um e-mail e pergunto?”
- (C) “[...] olhadinha pela janela e me dizer como é que tá o tempo?”
- (D) “Você vai conseguir falar com gente que você nunca falou antes.”

8 – O texto mostra a conversa entre Helga e seu marido, Hagar.



A resposta do marido revela que ele:

- a) Está preocupado com a previsão do tempo.
- b) Não gosta muito de dormir.
- c) Não gosta de trabalhar.
- d) Cumpre sempre o que promete.

2ª PARTE: REDAÇÃO

PROFESSORAS: JOYCE APARECIDA BERTANHA

GISLAINE APARECIDA DOS REIS

Leia a notícia abaixo e responda.

Crianças surdas recebem ajuda de cães guia na Grã-Bretanha

5 março 2012

Uma instituição de caridade britânica iniciou um projeto piloto para fornecer cães guia para crianças com problemas de audição.

No último ano, a instituição Cães Guia para Surdos deu 12 destes cães para crianças. Uma delas foi James Cheung, um menino de 11 anos com dificuldades de audição.



CRÉDITO, BBC WORLD SERVICE

Crianças dizem que se sentem mais confiantes e seguras por causa dos cães guia

O cão de James é o labrador Kurt, que o alerta quando ele precisa acordar de manhã, quando sua mãe o chama e em situações de perigo, como quando um alarme de incêndio dispara.

Kurt foi treinado para responder a certos sons e ordens.

Segundo a família de James, seu comportamento mudou após a chegada do animal.

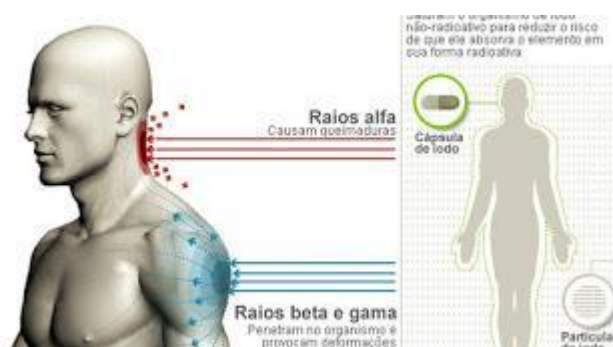
Ele está mais independente e confiante e desenvolveu um ótimo relacionamento com o cão.

https://www.bbc.com/portuguese/videos_e_fotos/2012/03/120305_caes_guias_surdos_fn

9) Qual é a função da foto e da legenda na notícia lida?

- (A) Mostrar como o cão-guia e o menino James Cheung se relacionam bem.
- (B) Explicar o que é um cão-guia.
- (C) Mostrar como o cão-guia deve ser ensinado.
- (D) Explicar com o menino ouve o cão-guia.

Leia a notícia abaixo e responda.



Nota Técnica

O Brasil vai monitorar a partir de segunda-feira, alimentos vindos do Japão, informa nota técnica conjunta da Agência Nacional de Vigilância Sanitária (Anvisa) e Ministério da Agricultura, Pecuária e Abastecimento (Mapa), divulgada nesta quinta-feira.

O objetivo das autoridades brasileiras é evitar que alimentos possivelmente contaminados por alto índice de radiação emitida pela usina nuclear de Fukushima, afetada pelo tsunami do dia 11 de março, entrem no país.

De acordo com a nota, a importação de alimentos japoneses ao Brasil estará condicionada à apresentação de declaração das autoridades sanitárias do Japão de que os produtos não contêm níveis de radiação acima dos limites permitidos.

G1.globo.com, 01/04/2011.

10) - Na notícia acima, a principal informação aparece na frase:

(A) “...informa nota técnica conjunta da ...ANVISA e ...MAPA, divulgada nesta quinta-feira.”

(B) “O objetivo das autoridades brasileiras é evitar que alimentos possivelmente contaminados... entrem no país.”

(C) “O Brasil vai monitorar, a partir de segunda-feira os alimentos vindos do Japão...”

(D) “a importação de alimentos japoneses ao Brasil estará condicionada à apresentação de declaração das autoridades sanitárias do Japão...”

Leia o conto a seguir e responda às questões 11 e 12.

O Grande Assalto



Avenida Santo Amaro. Às 13 h.

Um homem malvestido para em frente a uma concessionária de automóveis fechada e nota as bolas promocionais amarradas à porta.

Um policial desce da viatura, olha para todos os lados e observa um suspeito parado em frente a uma concessionária.

O suspeito está malvestido e descalço.

Uma senhora sentada no banco do ônibus que para na avenida para pegar passageiros comenta com a moça sentada ao seu lado que tem um mendigo todo sujo parado em frente a uma loja de automóveis.

Um senhor passa por um homem todo sujo, segura a carteira e começa a andar apressado. Logo que nota a viatura estacionada mais à frente, se sente seguro, amenizando os passos.

Um jovem tenta desviar de trás do ônibus parado, os policiais que ele vê logo à frente lhe trazem desconforto, pois seu carro está repleto de drogas que serão comercializadas na faculdade onde estuda.

O homem malvestido resolve agir, dá três passos à frente, levanta as mãos e agarra duas bolas promocionais; faz a conta rapidamente e se sente realizado, quando pensa que ao vender as bolas comprará algo para beber. Uma moça alertada pela senhora ao seu lado no ônibus, chama a atenção de vários passageiros para o homem que, segundo ela, é um mendigo, e diz alto que ele acabou de roubar algo na concessionária.

Um jovem com o carro cheio de drogas para vender na sua faculdade nota o homem correndo com duas bolas e dá ré no carro ao ver os policiais vindo em sua direção.

Um policial alcança o homem malvestido e bate com o cabo do revólver em sua cabeça várias vezes; o homem tido como mendigo pelos passageiros de um ônibus em frente cai e as bolas rolam pelo asfalto.

Um motorista que dirige na mesma linha há oito anos tenta ficar com o ônibus parado para ver os policiais darem chutes e socos em um homem malvestido que está caído na

calçada, mas o trânsito está livre e ele avança passando por cima e estourando duas bolas promocionais.

FERRÉZ, Ninguém é inocente. Rio de Janeiro: Objetiva, 2006.

11 – Qual é o sentimento das pessoas em relação ao homem?

- (A) Medo (C) Solidariedade
(B) Compaixão (D) Indiferença.

12 – O foco narrativo está em:

- (A) 1ª pessoa (B) 3ª pessoa.

3ª PARTE: HISTÓRIA

**PROFESSORAS: ELISÂNGELA CASTAGINE GIMENEZ RIBEIRO
ROGER DO CARMO DUQUE**


13) Identifique as frases corretas:

- () Muitos romanos menos ricos passaram a buscar proteção e trabalho nas terras desses grandes senhores.
() Quem concedia a terra era um suserano, e quem a recebia era um vassalo. As relações entre o suserano e o vassalo eram de obrigações mútuas, estabelecidas através de um juramento de fidelidade.
() O baixo clero era composto pelos padres, e monges. A nobreza era também hierarquizada estando dividida em alta e baixa nobreza. Alta nobreza: duque, marquês e conde. Baixa nobreza: visconde, barão e cavaleiro.
() A corveia era a obrigação que o servo tinha de trabalhar de graça alguns dias por semana no manso senhorial, ou seja, no cultivo das terras reservadas ao senhor.

Qual alternativa corresponde a sequencia correta?

- a) F,F,V,V b) V,F,V,F c) F,F,F,F d) V,V,V,V

14) Observe a figura e responda:



O rei tinha o maior poder concentrado em suas mãos e a nobreza representava os detentores das terras e riquezas, na época, denominados de "senhores feudais". Qual era a classe social formado por homens da Igreja, representava o poder da religião?

- a) Servos
- b) Nobres e Guerreiros
- c) Senhor Feudal
- d) Clero

15) Por sua parte em 1519, o navegador português Fernão de Magalhães (1480-1521) iniciou a primeira viagem de circunavegação pelo planeta.

Rejeitado pelo rei português, ele se pôs a serviço do monarca espanhol Carlos I (1500-1558). Sua expedição partiu de Cádiz, e fez paradas nas Canárias, Recife e Buenos Aires. De lá, atravessou o Estreito de Todos os Santos que posteriormente foi chamado de "Magalhães" em sua homenagem. Com isso, ele conseguiu chegar à Ásia, especialmente nas Filipinas e nas Ilhas Molucas.

Onde Magalhães morreu e em qual ano?

- a) Magalhães morreu em 1520, nas Filipinas, em combate com os nativos.
- b) Magalhães morreu em 1519, nas Filipinas, em combate com os nativos.
- c) Magalhães morreu em 1521, nas Filipinas, em combate com os nativos.
- d) Magalhães morreu em 1520, nas Américas, em combate com os nativos.

16) As grandes navegações foram impulsionadas pelo fechamento das rotas comerciais pelos turcos, após a queda de Constantinopla em 1453. A conquista de um mundo desconhecido representava um desafio para as [monarquias nacionais](#), que viam neste empreendimento uma forma de legitimar seu poder e expandir seu território.

O continente europeu recebia do Oriente açúcar, ouro, cânfora, porcelanas, pedras preciosas, pimenta, cravo, canela, noz-moscada, gengibre, drogas medicinais, bálsamos, unguentos, perfumes e óleos aromáticos.

As mercadorias que saíam do Oriente rumo ao Ocidente eram transportadas por quem?

- a) Por árabes em caravanas realizadas por terra até a Itália, chegando a Gênova, Veneza e Pisa.
- b) Por muçulmanos em caravanas realizadas por terra até a Itália, chegando a Gênova, Veneza e Pisa.
- c) Por árabes em caravanas realizadas por terra até a Itália, chegando a Gênova, Brasil e Pisa.
- d) Por judeus em caravanas realizadas por terra até a Itália, chegando a Gênova, Veneza e Pisa.

4ª PARTE: GEOGRAFIA

PROFESSORAS: ELISANGELA CASTAGINE GIMENEZ RIBEIRO

JULIANA DE CASTRO SILVA

17) - Identifique as frases verdadeiras (V) e as falsas (F) sobre as características territoriais do Brasil:

- () Com extensão territorial de 8.514.876 quilômetros quadrados, o Brasil é o maior país sul-americano.
- () O território brasileiro é banhado pelos oceanos Atlântico e Pacífico.
- () Os pontos extremos do Brasil são: Ponta de Seixas, Arroio do Chuí, Nascente do Rio Moa e Monte Caburaí.
- () A grande extensão territorial proporciona ao país fronteira com todas as nações da América do Sul.

As alternativas corretas são:

- A) V,V,F,F B) V,V,V,V C) V,F,V,F D) F, F, F,V

18) - O Brasil é o maior país em extensão territorial da América do Sul, possuindo fronteiras com várias nações desse subcontinente. Marque a alternativa que corresponde aos dois países sul-americanos que não se limitam com o território brasileiro.

- a) Peru e Equador c) Chile e Equador
- b) Suriname e Colômbia d) Argentina e Uruguai

19) - Analise as afirmativas sobre a posição geográfica do Brasil e marque (V) para as verdadeiras e (F) para as falsas.

- () O território brasileiro está totalmente ao sul da linha do Equador, portanto, o país pertence somente ao Hemisfério meridional.
- () Os extremos do território do Brasil no sentido leste-oeste são: Monte Caburaí (Roraima) e Arroio Chuí (Rio Grande do Sul).
- () O Brasil pertence ao Hemisfério ocidental, visto que o país está situado a oeste do meridiano de Greenwich.
- () O Trópico de Capricórnio “corta” o território brasileiro na sua porção sul.

As alternativas corretas são:

- a) V,V,V,F b) F,F,V,V c) F,F,F,F d) V,F,V,F

20) - Analise o mapa e marque a alternativa INCORRETA.



- a) O Brasil está localizado na América do Sul e é banhado somente pelo oceano Atlântico.
- b) Dos países sul-americanos, somente Chile e Equador não possuem fronteira o Brasil.
- c) A porção sul do Brasil é cortada pela linha do Equador, mais precisamente nos estados Amapá, Pará, Roraima e Amazonas.
- d) Bolívia e Peru estão localizados a oeste do território brasileiro.

5ª PARTE: ÉTICA-FILOSOFIA

PROFESSORA: MARIÂNGELA DE CASTRO ARAUJO DONATO

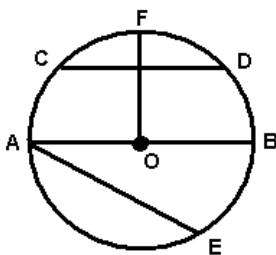
21) A presença da luz do sol na caverna significa.

- a) Não se preocupar com nada
- b) Ver melhor a realidade
- c) Viver nas sombras
- d) Permanecer na escuridão

22) Relembrando a frase do filósofo Merleau-Ponty “ A verdadeira Filosofia consiste em reaprender a ver o mundo”; entendemos que:


- a) Filosofia é conformar-se com um conhecimento superficial das coisas
- b) A verdadeira Filosofia é ficar na escuridão
- c) Filosofia é uma caminhada que não leva a nenhum lugar
- d) Filosofia é ver o mundo e organizar o universo do conhecimento

33) Na circunferência abaixo, de centro O, os segmentos \overline{CD} , \overline{OF} e \overline{AB} são, nessa ordem:



- Corda, raio e diâmetro.
- Diâmetro, raio e corda.
- Raio, corda e diâmetro.
- Corda, diâmetro e raio.

34) Fabrício percebeu que as vigas do telhado da sua casa formavam um triângulo retângulo, como desenhado abaixo.



Se um dos ângulos mede 68° , quanto mede os outros ângulos?

- 45° e 45°
- 56° e 56°
- 22° e 90°
- 90° e 28°

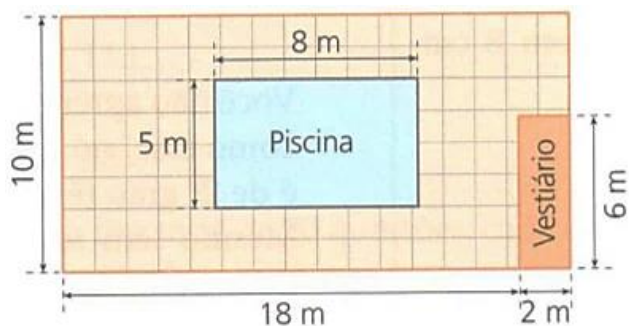
35) Um técnico em mecânica pretende construir cinco triângulos cujos lados devem ter as seguintes medidas:

- | | |
|---------------------------|-------------------------|
| I. 10 cm; 8 cm; 6 cm. | IV. 9 cm; 8 cm; 4 cm. |
| II. 9 cm; 15 cm; 12 cm. | V. 10 cm; 10 cm; 21 cm. |
| III. 12 cm; 15 cm; 12 cm. | |

Podemos afirmar que o técnico obterá um triângulo com quais medidas:

- | | |
|---------------------|-------------------|
| a. I, II, III e IV. | c. I, II e IV. |
| b. I, II e V. | d. I, II, IV e V. |

36) Paulo ao construir a sua casa gostou desta planta deste pátio.



Então, nesse pátio, a área ladrilhada (quadriculada) é:

- 200 m^2 .
- 128 m^2 .
- 144 m^2 .
- 52 m^2 .

8ª PARTE: CIÊNCIAS

PROFESSORA: RENATA MALTA FERREIRA

LEONARDO MARTINS DOS SANTOS

37) Sobre as relações ecológicas harmônicas podemos afirmar que:

- a) São relações em que os seres vivos são beneficiados sem ser prejudicados.
- b) São relações em que os seres vivos são prejudicados.
- c) São relações em que os seres vivos são parasitados.
- d) São relações em que os seres vivos servem de alimento para os outros seres vivos.

38) São consequências previsíveis advindas do efeito estufa e do aquecimento global:

I - Aumento da temperatura do planeta.

II - Liberação para a atmosfera de toneladas anuais de dióxido de carbono.

III - elevação do nível dos mares.

A) Somente I.

C) Somente I e III.

B) Somente I e II.

D) Somente II e III.

39) Em uma sala fechada e isolada termicamente, uma geladeira, em funcionamento, tem, num dado instante, sua porta completamente aberta. Antes da abertura dessa porta, a temperatura da sala é maior que a do interior. Após a abertura da porta, a temperatura da sala:

- a) diminui até que o equilíbrio térmico seja estabelecido.
- b) diminui continuamente enquanto a porta permanecer aberta.
- c) diminui inicialmente, mas, posteriormente, será maior do que quando a porta foi aberta.
- d) aumenta inicialmente, mas, posteriormente, será maior do que quando a porta foi aberta.

40) Em nosso dia-a-dia, vivemos cercados de máquinas. É muito comum nos depararmos com máquinas de todos os tipos, desde as mais simples até as mais complexas. Denominamos máquinas simples como:

A) Aquelas que seu funcionamento depende apenas de peças eletrônicas.

B) Aquelas que facilitam a atividade humana na realização de tarefas.

C) Aquelas que modificam e não transmitem a ação de uma força para realizar algum movimento.

D) Aquelas que nos permite realizar uma tarefa com maior esforço físico.

9ª PARTE: INGLÊS

PROFESSORES: LUIS ALEXANDRE MACHADO

PAULA CRISTINA DAMANTE PEREIRA

VEJA O CARTAZ!

COVID-19: What You Need to Know

COVID-19 causes mild to severe breathing problems. It can cause serious problems, especially in older people and people with other health problems, including cancer.

How does it spread?



- Through droplets when a person with it coughs or sneezes close to another person

What are the signs of COVID-19?



- Fever
- Cough
- Shortness of breath

How can I protect myself?



- Wash your hands often, for at least 20 seconds with soap and water, or use an alcohol-based hand sanitizer.



- Do not touch your eyes, nose, or mouth with unwashed hands.



- Stay at home when you are sick.



- Wear a mask in public settings.

41) O cartaz acima diz que a COVID causa sérios problemas a quem tem problemas de saúde, incluindo...

- a) Miopia b) Catapora c) Câncer d) Caxumba

42) O cartaz acima diz que entre as formas de se prevenir da COVID está...

- a) Lavar as mãos por pelo menos 20 segundos c) Usar máscara em público
b) Ficar em casa d) A 3 alternativas anteriores estão no cartaz

43) Como se diz “Eu gosto de dormir”?

- a) I like to study. c) I like to sleep.
b) I like to play. d) Nenhuma das alternativas está correta.

44) Assinale a alternativa que corresponda à tradução de “At the club I can meet friends”.

- a. No clube eu posso encontrar meus primos. c. No clube eu posso encontrar meus amigos.
b. No clube eu posso encontrar meus pais. d. Nenhuma das alternativas.

10ª PARTE: EDUCAÇÃO FÍSICA

PROFESSOR: MARCIO APARECIDO DA SILVA

GLEYSSE FERNANDA GIOVANELLA COSTA

45) O atletismo surgiu em 776 a.C., ano em que a primeira Olimpíada foi realizada. O país de sua origem é:

- (A) China. (B) Egito. (C) Grécia. (D) Itália.

46) Quais os tipos de saltos fazem parte do Atletismo?

- A. Altura, distância, extensão e com vara. C. Triplo, com vara e altura.
B. Distância, altura, triplo e com vara. D. Com vara, distância e extensão.

47) Quais são os tipos de lançamentos e arremesso existentes no Atletismo?

- A. Lança, disco, vara e martelo. C. Peso, disco, martelo e dardo.
B. Bola, disco, lança e vara. D. Vara, disco, peso e martelo

48) Assinale a alternativa onde tem 3 corridas oficiais do atletismo:

- (A) Corrida de 50m, Corrida de rua, Corrida de passar o bastão.
(B) Corrida de 100m, Corrida de revezamento, Corrida com barreiras.
(C) Corrida de 100m, Corrida com objetos, Corrida de revezamento.
(D) Corrida de 50m, Maratona, Corrida de passar o bastão.

11ª PARTE: ARTE

PROFESSOR: SANDRA RODRIGUES DE SOUZA

49) Assinale a alternativa que completa a frase.

“A _____ é uma forma de arte que se constitui na combinação de vários _____ e _____, seguindo uma pré-organização ao longo do tempo. É considerada por diversos autores como uma prática cultural e humana. Não se conhece nenhuma civilização ou agrupamento que não possua manifestações musicais próprias.”

- a) arte, sons e ritmos. c) música, sons e ritmos.
b) música, batiques e som d) Cantiga, ritmos e som.

50) A composição musical é um processo de criação, que inclui criatividade e o uso dos elementos musicais para se fazer uma melodia, ou algum produto musical. Além disso é necessário ter:

- a) conhecimento da linguagem musical. c) uma audição atenta e criativa.
b) O ouvido precisa ser treinado diariamente. d) Todas as alternativas estão corretas.

51) Assinale a alternativa correta. **Improvisação musical** é:

- a) a arte cantar uma música.
b) Inventar uma dança.
c) é uma *composição* espontânea, realizada sem preparo antecipado, ação inventada na hora, com o que estiver disponível.
d) Nenhuma das alternativas estão corretas.

52) Assinale a alternativa que completa a frase.

“O _____ Musical acontece por meio de sistemas de escrita baseada em sinais símbolos e figuras.”

- a) Canto. b) Registro. c) Número. d) Ensaio.

